

يوم غابت الشمس

خواتسو رانوسي

جيسي بريتنباش

العربية: Hala Ghamrawi



الرياضيات العائلية المبكرة

Early
Family
Math



Interactive Story

القراء الكبار

قبل الحديث تحدث مع طفلك قبل أن يتمكن من التحدث أو حتى فهم الكلمات. أشر إلى الأشياء التي تراها وقم بتسميتها ووصفها، مثل الأشكال والألوان والمقارنات والكميات. عندما يبدأ طفلك في فهم الكلمات، اسأل عن شيء ما واطلب من طفلك أن يشير إليه. على سبيل المثال، ”أين الكرة؟“ إذا لم يتمكن طفلك من العثور على الشيء، فأشر إليه.

الحديث المبكر عندما يبدأ طفلك بفهم الكلمات وقولها، اطرح عليه أسئلة بسيطة. يمكنك مساعدته في الإجابات حسب الحاجة. إذا أشرت وقلت ”هل هذا أحمر؟“ ولم يعلم، قدم له الإجابة. إذا قلت ”عد المكعبات.“ وطفلك لا يعرف كيف، قم بالإشارة إلى المكعبات وعدّها معه ”واحد، اثنان، ثلاثة“.

كلمات ومواضيع الرياضيات تحتوي هذه القصة على العد حتى 7 والمقارنة والأشكال. كلمات التدريب: الأرقام إلى 7، كم، نفسه، أقل، أكثر، واحد إضافي، واحد أقل، أيضاً، كثير جداً، مستدير، كرة، أسطوانة، دافئ، أكثر دفئاً، بارد، وأكثر برودة.

اقرأ، تحدث واستمتع! الأسئلة والتعليقات المقدمة هي مجرد البداية.

من أجل القراءة الأولى، اقرأ الأسئلة والتعليقات بالأحمر.

من أجل القراءة الثانية، اقرأ الأسئلة والتعليقات بالأزرق.

من أجل القراءة الثالثة، اقرأ الأسئلة والتعليقات بالأخضر.


بعد ذلك، اتبع اهتمامات طفلك ودع مناقشاتك تسير في اتجاهات ممتعة.

قررت الأم الشمس
زيارة أختها القمر. تعيش
الأخت قمر في الجانب
الآخر من السماء. قالت
الشمس للسحب: ”سأعود
قريباً“.

١. ماذا سيتغير في الغيوم
والجبال إذا ذهب الشمس؟

٢. هل سبق وأن تخيلت وجوهاً
على الغيوم والجبال؟

٣. في السماء خمسة أشياء.
عندما تغيب الشمس كم سيبقى؟
ما هو أقل من خمسة بواحد؟



عندما غادرت الشمس،
ارتدت الجبال أوشحتها
البيضاء.

١. لماذا ارتدت الجبال
أوشحتها البيضاء حين غابت
الشمس؟

٢. كم عدد الغيوم؟ هل هناك
المزيد من الجبال أو الغيوم في
هذه الصفحة؟

٣. ماذا تفعل الغيوم وبماذا
تظنها تشعر؟



تشاجرت الريح مع
الأشجار. أصبحت
الأشجار غاضبة. فألقت
أوراقها في كل مكان.

١. خمن كم عدد أوراق الشجر
التي تتطاير حولها. هل تعرف
أرقامًا بهذا الحجم؟

٢. لاحظ مدى قوة هبوب
الريح. الأوراق تتطاير في كل
مكان!

٣. هبت الريح بشدة حتى
انحنى الأشجار. هل سبق لك
أن كنت بالخارج عندما هبت
الرياح بشدة لدرجة أنك واجهت
صعوبة في المشي؟



بدأت السماء تتذمر.
تحولت إلى اللون
الرمادي.

١. الغيوم مهمومة وقلقة.
ما الذي تعتقد أنه على وشك
الحدوث؟

٢. عد الوجوه على الغيوم.
هي في ثلاث مجموعات:
مجموعات من اثنين، وأربعة،
وواحد. كم عددها معًا؟

٣. عد الأشجار والجبال
ومجموعات الغيوم، هناك كل
الأعداد من واحد إلى خمسة،
هل يمكنك العثور عليها كلها؟



كانت الغيوم حزينة
لرؤية كل هذا. فبدأت
بالبكاء. كانت هناك دموع
كثيرة.

١. ربما أمطرت الغيوم
لحزنها، ولكن بعض الناس
يستمتعون بمشاهدة المطر
وسماعه. كيف يشعر كالمطر؟

٢. هناك الكثير من قطرات
المطر. هل يمكنك عدّها جميعًا
أم أنها كثيرة جدًا؟

٣. فكر في شيء آخر يوجد
الكثير منه مما لا يمكن عدّه.



بدأ العالم كله يغرق تحت
الماء.

١. الأشجار تحتاج إلى الماء،
ولكن هل تعتقد أنها تحب
الحصول على هذا القدر
من الماء؟ تبدو الوجوه على
الأشجار قلقة أو حزينة بعض
الشيء.

٢. كم عدد الأشجار في هذه
الصورة؟

٣. هل يغرق العالم تحت الماء
أم أن الماء يمتلئ فوقه؟




وفي هذه الأثناء، على
الجانب الآخر من
السماء، كانت الشمس
مستعدة لتترك أختها.
ودعت القمر وذهبت إلى
المنزل.

١. أتخسبون أن الشمس
تستطيع أن تقبل القمر؟

٢. هل سبق وأن رأيت نجومًا
بالقرب من القمر أو الشمس؟

٣. الكرة هي شكل كروي،
وهي مستديرة في جميع
الاتجاهات. القمر والشمس
لديهما شكل كروي، رغم أن
القمر لا يبدو كذلك دائمًا.




كانت السماء سعيدة جدًا
برؤية الشمس لدرجة أنها
تحولت إلى اللون الأزرق
الساطع. ارتدت الجبال
ثيابها الخضراء الجميلة.

١. مما صنع الثوب الأخضر
على الجبال؟

٢. كم عدد الغيوم الموجودة
الآن؟ ماذا حدث للغيوم
الأخرى؟

٣. قارن عدد ما في السماء
بعدد الجبال ذات الوجوه.
أحدهما أكثر من الآخر بواحد،
وأحدهما أقل من الآخر بواحد،
فأيهما؟




ذهبت الريح للنوم.
ومدت الأشجار أغصانها
وابتسمت.

١. الجبال والأشجار تحب
الطقس الدافئ. هل تحب الطقس
الدافئ أم البارد؟

٢. الأسطوانة هي شكل مثل
الأنبوب أو القشة. غالبًا ما
يكون مقبض المكنسة عبارة عن
أسطوانة. وجذوع هذه الأشجار
بين الأرض وأغصانها الأولى
عبارة عن أسطوانات.

٣. ما هي الأشياء الأخرى من
حولك التي تكون على شكل
أسطوانة؟




كانت الغيوم سعيدة جدًا
برؤية الأم الشمس مرة
أخرى. لقد ذهبت للعب.

١. في السماء خمسة غيوم. إذا
أضفت واحدة أخرى للشمس،
فكم عدد الأشياء الموجودة في
السماء؟

٢. من صفحتين كانت هناك
غيمتان. كم عدد الغيوم
الموجودة الآن؟

٣. إذا كانت الغيوم تسعد برؤية
الشمس فلماذا غابت؟



ظهرت الكثير من
النباتات الصغيرة
من الأرض لتقول:
”مرحبًا“. العالم كله
تألق.

١. هناك فراشات، وأزهار،
وسيقان، والكثير من النباتات
الصغيرة. قوموا بعدّ بعض هذه
الأشياء معًا.

٢. أي مجموعة من الأشياء
أكثر وأي مجموعة أقل؟

٣. ما هي الأشياء التي تحتاجها
النباتات لتجعلها سعيدة وتنمو؟




أشرفت الأم الشمس
نورها في كل مكان. ”لقد
أخبرتكم أنني سأعود،“
ابتسمت.

١. تمتد أشعة الشمس بعيدًا جدًا
في هذه الصفحة. هل هناك أيام
تبدو فيها أشعة الشمس وكأنها
تصل إليك؟

٢. أي أقل ما في هذه الصفحة:
الأشجار أم الجبال أم شيء في
السماء؟

٣. أيها موجود بعدد أكبر؟
في بعض الأحيان يكون
هناك شيان بنفس المقدار مع
أكبر عدد – لا بأس، فقط قل
كلاهما.



The day the Sun went away

Author -- KhothatsoRanoosi and Marion Drew

Translation -- KhothatsoRanoosi and Marion Drew

Illustration -- JesseBreytenbach

Language -- English

Level -- Firstsentences

© African Storybook Initiative 2015

Creative Commons: Attribution 4.0

Source www.africanstorybook.org

Original source <http://paleng.weebly.com/>.